


São Gonçalo, 21 de junho de 2021.

Professoras: Thatiane e Elisângela

Série: 1º ano

Cronograma de Estudo Semanal 18º**Seguir corretamente os dias e horários estabelecidos para cada matéria, não se esqueçam de realizar as tarefas com muita atenção e sempre que precisar peça ajuda. Bom estudo!**

PORTUGUÊS- 21 de junho	Palavras com sentidos contrários/ Escrita da letra S s: Páginas: 27 a 31. Plataforma Kepler - Trilha de aprendizagem. " Capítulo 4
MATEMÁTICA- 22 de junho	Números até 100/ A dezena Páginas: 91 a 96. Plataforma Kepler - Trilha de aprendizagem. " Capítulo 4
CIÊNCIAS- 23 de junho	Revisando o que estudei!/ Atividade em folha. Plataforma Kepler - Trilha de aprendizagem. " Capítulo 4". PAGE: 42 e 43.
INGLÊS	
HISTÓRIA- 24 de junho	Convivência Familiar Páginas: 180 a 186. Plataforma Kepler - Trilha de aprendizagem. " Capítulo 3".
ARTES	 Páginas 51 à 53.
GEOGRAFIA- 25 de junho	Revisando o que estudei! Páginas: 218 a 224. Plataforma Kepler - Trilha de aprendizagem. " Capítulo 3".

Data: _____ / _____ / _____

Nome Completo _____

Professora: _____

Série: 1º ano

Para casa- Português

Complete os nomes das figuras com:

ra - re - ri - ro - ru



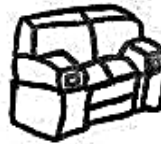
_____lada



_____bãe



_____cela



_____fá



_____me



_____pe



_____cê



_____pate



_____ria



_____te



_____cê



_____ta



_____l



_____pa

Data: _____/_____/_____

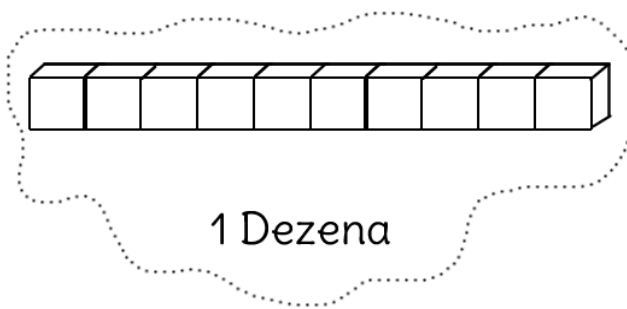

Nome Completo _____

Professora: _____

Série: 1º ano

Para Casa- Matemática

DEZENAS E UNIDADES



1 - Complete os quadros:

	D	U
25		
18		
93		
36		
78		
15		
46		



	D	U
	8	6
	3	2
	4	7
	1	2
	9	0
	7	3
	2	5

2 - Decomponha os numerais em dezenas e unidades:

35 trinta e cinco - 3 dezenas e 5 unidades

76 _____

19 _____

93 _____

Data: _____/_____/_____


Nome Completo _____

Professora: _____

Série: 1º ano

Para Casa- Geografia

OBSERVE O GRAFICO DE BRINQUEDOS DO GUTO, PINTE A QUANTIDADE, OBSERVANDO A TABELA AO LADO.



A- QUAL BRINQUEDO GUTO TEM EM MENOR QUANTIDADE?

B- QUAL ELE TEM EM MAIOR QUANTIDADE?

QUADRO 	QUEIJO 	QUIABO 	QUOTA
qua qua QUA Qua	que que QUE Que	qui qui QUI Qui	quo quo QUO Quo

Qua-qua	Que-que	Qui-qui
aquário	leque	quiabo
quadro	meleque	caqui
quatro	queijo	quibe